

در شکل (۵.۲ ب)، O مرکز دایره‌ای به شعاع ۱ و θ اندازه زاویه حاده AOP برحسب رادیان است. توجه کنید که با این شرایط $s = \theta$ مثلث قائم‌الزاویه‌ای است که طول اضلاعش عبارت‌اند از

$$QP = \sin \theta, \quad AQ = 1 - \cos \theta$$

از قضیه فیثاغورس و توجه به این که $AP < \theta$ حاصل می‌شود:

$$(11) \quad \sin^2 \theta + (1 - \cos \theta)^2 = (AP)^2 < \theta^2$$

هر دو جمله طرف چپ رابطه (۱۱) مثبت هستند و در نتیجه هر یک کوچکتر است از مجموعشان، یعنی کوچکتر است از θ^2

$$(12) \quad \sin^2 \theta < \theta^2$$

$$(12) \quad (1 - \cos \theta)^2 < \theta^2$$

نامساویهای (۱۲) و (۱۲ ب) ایجاب می‌کنند که:

$$(13) \quad |\sin \theta| < |\theta|$$

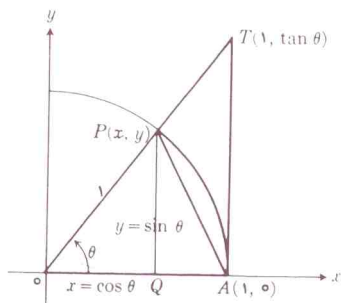
$$(13) \quad |1 - \cos \theta| < |\theta|$$

اگر ε عدد مثبتی باشد و h را مساوی ε انتخاب کنیم به ازای هر θ که در رابطه $h < |\theta| < h$ صدق کند خواهیم داشت:

$$|\sin \theta - 0| < \varepsilon$$

و

$$|1 - \cos \theta| < \varepsilon$$



شکل ۵.۲

مساحت $\Delta AOT <$ مساحت قطاع $AOP <$ مساحت ΔAOP

مثال ۳. به عنوان کاربردی از قضیه ۶ روابط زیرین را ثابت می‌کنیم

$$(9) \quad \lim_{\theta \rightarrow 0} \sin \theta = 0$$

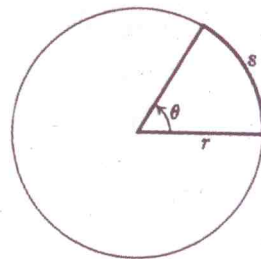
$$(9) \quad \lim_{\theta \rightarrow 0} \cos \theta = 1$$

$$(9) \quad \lim_{\theta \rightarrow 0} \frac{\sin \theta}{\theta} = 1$$

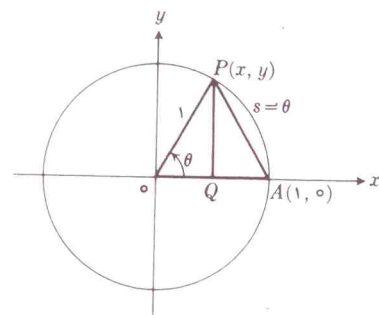
مشروط به آن که θ با رادیان اندازه گرفته شده باشد. [یادآوری می‌کنیم که وقتی رأس زاویه θ در مرکز دایره‌ای به شعاع r باشد و اضلاع زاویه بردایره قوسی به درازای s جدا کنند مقدار زاویه برحسب رادیان از دستور

$$(10) \quad \theta = s/r$$

بدست می‌آید (شکل ۵.۲).]



(آ)



(ب)

شکل ۵.۲

۵.۲ اندازه یک زاویه به رادیان
۵.۲ ب اندازه یک زاویه به رادیان در دایره وقتی که $r = 1$ و $s = \theta$

بنابراین

$$\lim_{\theta \rightarrow 0} \sin \theta = 0 \text{ و } \lim_{\theta \rightarrow 0} \cos \theta = 1$$

برای اثبات رابطه (۹ ج) فرض می‌کنیم که (در شکل ۶۰۲) $0 < \theta < \pi/2$ باشد و مساحت‌های ΔAOP و قطاع AOP و ΔAOT را با هم می‌سنجیم و توجه می‌کنیم که

$$\text{مساحت } \Delta AOP < \text{مساحت قطاع } AOP < \text{مساحت } \Delta AOT$$

اما نسبت مساحت قطاع AOP به مساحت دایره‌ای به شعاع ۱ برابر است با نسبت طول قوس آن قطاع به محیط آن دایره:

$$\frac{\text{مساحت قطاع } AOP}{\text{مساحت دایره}} = \frac{\text{کمان } AP}{\text{محیط دایره}}$$

بدین ترتیب

$$\frac{\text{مساحت قطاع } AOP}{\pi r^2} = \frac{r\theta}{2\pi r} = \frac{\theta}{2\pi}$$

و بنابراین

$$(14 \text{ آ}) \quad \text{مساحت قطاع } AOP = \frac{1}{2} r^2 \theta$$

$$(14 \text{ ب}) \quad (r = 1 \text{ وقتی که}) = \frac{1}{2} \theta$$

مثلث AOP دارای قاعده $OA = 1$ و ارتفاعی برابر با

$$y = PQ = \sin \theta$$

است و در نتیجه

$$(15 \text{ آ}) \quad \text{مساحت } \Delta AOP = \frac{1}{2} \sin \theta$$

به همین ترتیب چون قاعده مثلث AOT برابر با $OA = 1$ و ارتفاع آن $AT = \tan \theta$ است:

۱. قبول می‌کنیم که مساحت و محیط دایره به شعاع r عبارت‌اند از $A = \pi r^2$ و $C = 2\pi r$. اثبات این روابط به حد مربوط می‌شوند ولی نه حد توابع مثلثاتی.

$$(15 \text{ ب}) \quad \text{مساحت } \Delta AOT = \frac{1}{2} \tan \theta$$

اما داشتیم

$$\text{مساحت } \Delta AOT < \text{مساحت قطاع } AOP < \text{مساحت } \Delta AOP$$

بنابراین

$$0 < \theta < \frac{\pi}{2} \text{ هرگاه } \frac{1}{2} \sin \theta < \frac{1}{2} \theta < \frac{1}{2} \tan \theta$$

(۱۶)

اگر سه جمله نامساویهای (۱۶) را بر $1/2 \sin \theta$ تقسیم کنیم حاصل می‌شود

$$(17 \text{ آ}) \quad 0 < \theta < \frac{\pi}{2} \text{ هرگاه } 1 < \frac{\theta}{\sin \theta} < \frac{1}{\cos \theta}$$

به خاطر می‌آوریم که $\sin(-\theta) = -\sin \theta$ و $\cos(-\theta) = \cos \theta$. بدین ترتیب رابطه (۱۷ آ) ایجاب می‌کند که

$$0 < -\theta < \frac{\pi}{2} \text{ هرگاه } 1 < \frac{-\theta}{\sin(-\theta)} < \frac{1}{\cos(-\theta)}$$

و یا

$$-\frac{\pi}{2} < \theta < 0 \text{ هرگاه } 1 < \frac{\theta}{\sin \theta} < \frac{1}{\cos \theta}$$

(۱۷ ب)

روابط (۱۷ آ) و (۱۷ ب) را ترکیب می‌کنیم تا رابطه زیر نتیجه شود

$$(18) \quad 0 < |\theta| < \frac{\pi}{2} \text{ هرگاه } 1 < \frac{\theta}{\sin \theta} < \frac{1}{\cos \theta}$$

نامساوی (۱۸) درباره $\theta/\sin \theta$ است. برای آن که نامساوی را بر حسب $\sin \theta/\theta$ بیان کنیم سه جمله رابطه‌های (۱۸) را معکوس کرده جهت نامساویها را عوض می‌کنیم، زیرا که می‌دانیم هرگاه a و b هر دو مثبت و $a < b$ ، آنگاه